

III. Łądy i oceany na Ziemi

1 Przez łądy i oceany

Cele lekcji: Dowiesz się, czym są południki i równoleżniki. Poznasz rozmieszczenie kontynentów oraz oceanów na naszej planecie. Nauczysz się określać położenie punktów i kontynentów na półkulach Ziemi.



Na dobry początek



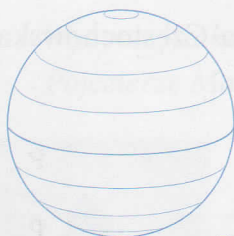
1 Na podstawie fotografii uzupełnij zdania.

A. Na fotografii przedstawiono _____, który jest _____ Ziemi.


B. Linia przerywaną zaznaczono na zdjęciu przebieg _____.

2 Rysunki przedstawiają układ południków i równoleżników na kuli ziemskiej.

A.



B.



Podpisz rysunki, a następnie zaznacz w każdym wierszu tabeli literę odpowiadającą rysunkowi przedstawiającemu linie, których dotyczy informacja.

Lp.	Informacja	Rysunek	
1.	Łączą bieguny Ziemi.	A	B
2.	Wyznaczają kierunek północny i kierunek południowy.	A	B
3.	Należą do nich zwrotniki i koła podbiegunowe.	A	B
4.	Wszystkie są jednakowej długości.	A	B
5.	Wyznaczają kierunek wschodni i kierunek zachodni.	A	B

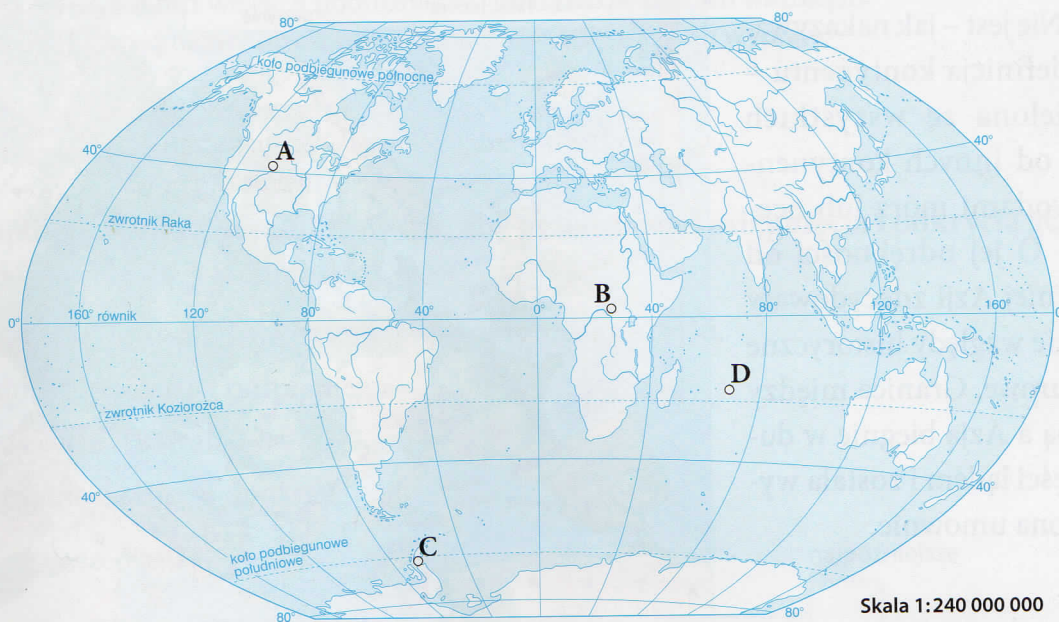
- 3 Na mapie konturowej świata zaznaczono punkty A–D.



Obejrzyj animację
docwiczenia.pl
Kod: N57AB6



Obejrzyj animację
docwiczenia.pl
Kod: N5CYAG



Wykonaj polecenia.

- a) Zaznacz na mapie czerwoną linią równik, a niebieską – południk 0° .
- b) Oceń prawdziwość informacji. Zaznacz P, jeśli informacja jest prawdziwa, albo F, jeśli jest fałszywa.

1.	Punkt A leży na półkuli północnej.	P	F
2.	Na półkuli południowej znajduje się tylko punkt C.	P	F
3.	Punkt D leży na półkuli południowej oraz na półkuli wschodniej.	P	F
4.	Punkt B leży na półkuli północnej i na półkuli południowej.	P	F

- 4 Na podstawie mapy z zadania 3 uzupełnij zdania.

- A. W Afryce leży punkt _____.
- B. Punkt D leży na Oceanie _____.
- C. Kontynentem, na którym znajduje się punkt C, jest _____.
- D. Kontynentem, który leży na wszystkich półkulach, jest _____.
- E. Kontynentami położonymi w całości na półkuli północnej są _____
_____ i _____.