



POPRAWA PROCENTY

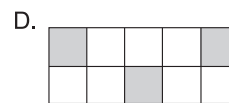
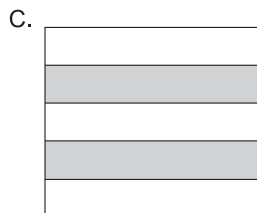
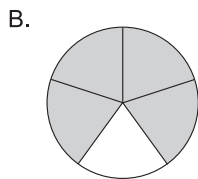
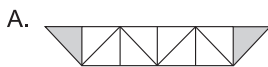
.....
imię i nazwisko

.....
lp. w dzienniku

.....
klasa

.....
data

1. Rysunek, na którym zacieniowano 20% figury, to rysunek:

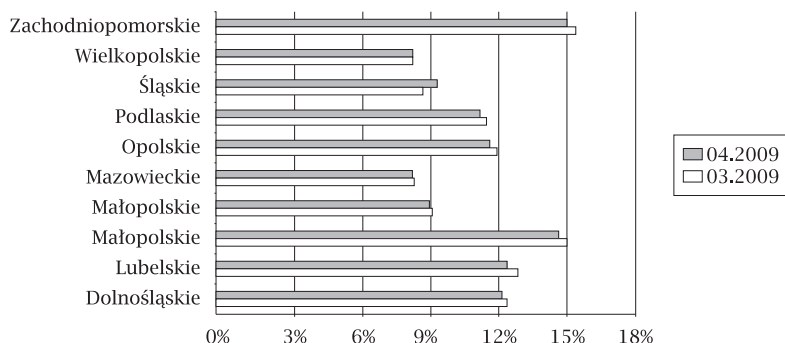


2. Zamień podane procenty na ułamki:

- a) 24% b) 5,4% c) 0,68% d) 158%

3. Diagram przedstawia stopę bezrobocia w wybranych województwach Polski. W ilu województwach w marcu 2009 roku stopa bezrobocia nie przekroczyła 9%?

- A. w 3 województwach
B. w 4 województwach
C. w 2 województwach
D. w 6 województwach



4. Jakim procentem liczby 38 jest liczba 57?

- A. $66\frac{2}{3}\%$ B. 50% C. 150% D. $33\frac{1}{3}\%$

5. Wojtek dostaje 25 zł kieszonkowego. Na słodycze przeznaczą 80% tej kwoty, czyli:

- A. 5 zł B. 20 zł C. 23,15 zł D. 22 zł

6. Która liczba jest o 25% większa od 60?

- A. 75 B. 60,25 C. 62,5 D. 85

7. Liczba 13,5 to 9% liczby:

- A. 150 B. 143,5 C. 0,121 D. 6,5

8. Ania, Zbyszek i Kasia ubiegają się o tytuł najsympatyczniejszego ucznia szkoły. W kwietniu i w maju przeprowadzono ankiety, których wyniki przedstawione są obok. Wybierz zdanie prawdziwe.

- A. Popularność Zbyszka zmniejszyła się o 25 punktów procentowych.
B. Popularność Ani zmniejszyła się o 30 punktów procentowych.
C. Popularność Ani zmniejszyła się o 30%.
D. Popularność Kasi wzrosła o 5%.

