

Oddział	Nr dziennika	Kod szkoły
<input type="checkbox"/>	<input type="checkbox"/> <input type="checkbox"/>	<input type="checkbox"/> <input type="checkbox"/> <input type="checkbox"/> <input type="checkbox"/> <input type="checkbox"/>
A	0 0	0 0 0 0 0
B	1 1	1 1 1 1 1
C	2 2	2 2 2 2 2
D	3 3	3 3 3 3 3
E	4 4	4 4 4 4 4
F	5 5	5 5 5 5 5
G	6 6	6 6 6 6 6
H	7 7	7 7 7 7 7
I	8 8	8 8 8 8 8
J	9 9	9 9 9 9 9

KLASA 3

Olimpiada



IMIĘ

SESJA ZIMOWA

NAZWISKO

UWAGA! Swoje odpowiedzi zaznacz poprzez zamalowanie kółeczka. Prawidłowy sposób zaznaczania to: ●

PINGWINY

Pingwiny to ptaki morskie zamieszkujące półkulę południową, głównie wybrzeża Antarktydy. Należą do ptaków nie latających, podobnie jak strusie czy emu, ale w przeciwieństwie do nich potrafią doskonale pływać i przebywać pod wodą. Skrzydła, które przypominają wiosła, sprawiają, że te niezdarne na lądzie zwierzęta pod wodą stają się szybkie i zwinne.

Pingwiny żyją w bardzo surowym klimacie, gdzie często panują dotkliwie mrozy i lodowe burze. Pióra nie pełnią funkcji związanych z lotem, ale zapewniają niezwykle dobrą ochronę przed chłodem. Swoje gniazda zakładają w szczelinach i rozpadlinach skalnych lub zagłębieniach terenu. Pingwin składa jedno jajo na dwa lata. Wysiadywane jest ono na zmianę przez samca i samicę przez około 55 dni. Młodymi pisklętami najczęściej opiekuje się samiec, natomiast samica poszukuje pożywienia.

1. Wskaż podpunkt, w którym poprawnie uzupełniono oznaczone na czerwono wyrazy w tekście.

- | | |
|--|--|
| <input type="radio"/> południową; burze; ochronę | <input type="radio"/> południową; burze; ochronę |
| <input type="radio"/> południową; burze; ochronę | <input type="radio"/> południową; burze; ochronę |

2. Pingwiny:

- są upierzone mają skrzydła są ptakami są niezdarne na lądzie

3. Latać nie potrafią:

- strusie wróble emu pingwiny

4. Pingwiny swoje gniazda zakładają:

- w bryłach lodu w szczelinach i rozpadlinach skalnych
 na kamieniach w zagłębieniach terenu

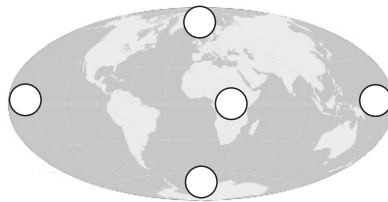
5. Prawdą jest, że:

- | | |
|--|--|
| <input type="radio"/> młodymi pisklętami pingwinów najczęściej opiekuje się samiec | <input type="radio"/> skrzydła pingwinów przypominają wiosła |
| <input type="radio"/> pingwiny potrafią pływać | <input type="radio"/> pingwiny zamieszkują wybrzeża Arktyki |

6. W przytoczonym tekście:

- występują tylko zdania oznajmujące
 występują rzeczowniki tylko w rodzaju męskim
 jest kilka zdań pytających
 nie ma żadnego przymiotnika
 występuje rzeczownik w rodzaju nijakim

7. Na mapie świata zamaluj kółeczko, którym oznaczony jest obszar występowania pingwinów.



Informacje o pingwinach znajdziemy w atlasie:

- geograficznym ptaków
 historycznym roślin

8. Ustaw wyrazy w kolejności alfabetycznej.

- SKRZYDŁA (1) (2) (3) (4)
 SZYBKIE (1) (2) (3) (4)
 SZCZELINA (1) (2) (3) (4)
 SKALNY (1) (2) (3) (4)


9. Przyporządkuj wyrażenia do znaczeń.

- | | |
|----------------------|-----------------|
| być marzycielem | (a) (b) (c) (d) |
| być skąpym | (a) (b) (c) (d) |
| mieć zdrętwiałe nogi | (a) (b) (c) (d) |
| bać się | (a) (b) (c) (d) |

- a) drzeć jak listek na wietrze
- b) czuć mrówki w nogach
- c) chodzić z głową w chmurach
- d) mieć węża w kieszeni

10. W przytoczonym zdaniu zamaluj kółeczka pod przymiotnikami.

Niezdarne na lądzie zwierzęta pod wodą stają się szybkie i zwinne.



11. Zamaluj kółeczko z liczbą liter, głosek i sylab.

	LITERY	GŁOSKI	SYLABY
ZWIERZĘTA	(7) (8) (9) (10)	(6) (7) (8) (9)	(3) (4) (5) (6)
WYBRZEŻE	(7) (8) (9) (10)	(6) (7) (8) (9)	(3) (4) (5) (6)
SZCZELINA	(7) (8) (9) (10)	(6) (7) (8) (9)	(3) (4) (5) (6)
POSZUKUJE	(7) (8) (9) (10)	(6) (7) (8) (9)	(3) (4) (5) (6)

12. Zaznacz prawidłową odpowiedź.

Siostra mojej mamy to moja: kuzynka ciocia

Mama mojej mamy to moja: babcia teściowa

13. Pingwiny wysiadują jedno jajo około 55 dni. Ile to tygodni?

- 5 tygodni 6 tygodni i 6 dni
 7 tygodni i 6 dni 8 tygodni i 1 dzień

14. W pewnym ZOO karmienie pingwinów odbywa się co 2 godziny i 15 minut. Pierwsze karmienie odbyło się o godzinie 7:30. Wskaż godziny drugiego i trzeciego karmienia.

- II karmienie 8:45 9:30 9:45 10:00
 III karmienie 11:00 11:45 12:00 12:15

15. Przeczytaj poniższe informacje i na ich podstawie zdecyduj co jest prawdą a co fałszem.

Pingwin cesarski jest największym przedstawicielem pingwinów. Osiąga ponad 130 cm wzrostu i wagę nawet do 45 kg.

Najmniejszym przedstawicielem rodziny pingwinów jest pingwin Adeli. Waży on około 5 kg i mierzy około 75 cm wzrostu.

1. Pingwin cesarski jest 9 razy cięższy od pingwina Adeli. TAK NIE
 2. Różnica wzrostu między pingwinem cesarskim a Adeli wynosi mniej niż metr. TAK NIE
 3. Pingwiny Adeli są mniejsze ale cięższe od pingwinów cesarskich. TAK NIE
 4. Pingwiny cesarskie mają ponad metr wysokości. TAK NIE

16. Pan Jan załadował do samochodu 2 pudła z jabłkami. W każdym pudle było po 4 worki, a w każdym worku było po 3 jabłka.

Pan Kuba załadował do samochodu 4 pudła z jabłkami. W każdym pudle było po 3 worki, a w każdym worku były po 2 jabłka.

Który z panów załadował na samochód więcej jabłek?

- Kuba Jan obaj załadowali po tyle samo

U którego z panów w jednym pudle jest mniej jabłek?

- u Kubie u Jana u obydwu jest tyle samo

17. Uzupełnij puste kratki tak, by działanie matematyczne było poprawne zarówno poziomo jak i pionowo.

W wyróżnionej kratce jest cyfra:

- 4 6
 5 7

	+		=	15
-		-		
	+	6	=	
=		=		=
2	+	2	=	

18. Zamaluj kółeczka przy prawidłowych odpowiedziach.

Czy jest możliwe, aby mieć:

1. 100 złotych w 5 banknotach?
 2. 50 złotych w 2 banknotach?
 3. 60 złotych w 5 banknotach?

	TAK	NIE
1.	<input type="radio"/>	<input type="radio"/>
2.	<input type="radio"/>	<input type="radio"/>
3.	<input type="radio"/>	<input type="radio"/>

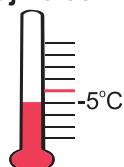
19. Przyporządkuj zwierzęta do ich tropów.

<input type="radio"/>	<input type="radio"/>	<input type="radio"/>	<input type="radio"/>
	<input type="radio"/>	<input type="radio"/>	<input type="radio"/>
<input type="radio"/>	<input type="radio"/>	<input type="radio"/>	<input type="radio"/>
	<input type="radio"/>	<input type="radio"/>	<input type="radio"/>
<input type="radio"/>	<input type="radio"/>	<input type="radio"/>	<input type="radio"/>
	<input type="radio"/>	<input type="radio"/>	<input type="radio"/>
<input type="radio"/>	<input type="radio"/>	<input type="radio"/>	<input type="radio"/>

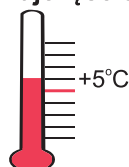
20. Zamaluj kółeczko przy słowie, które nie należy do grupy.

PORA ROKU	<input type="radio"/> zima	<input type="radio"/> wiosna	<input type="radio"/> sezon	<input type="radio"/> lato
OPAD	<input type="radio"/> grad	<input type="radio"/> śnieg	<input type="radio"/> deszcz	<input type="radio"/> lód
PTAK	<input type="radio"/> nietoperz	<input type="radio"/> pingwin	<input type="radio"/> koliber	<input type="radio"/> indyk
TEATR	<input type="radio"/> akt	<input type="radio"/> kurtyna	<input type="radio"/> sufler	<input type="radio"/> kadr

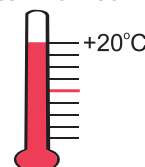
21. Zamaluj kółeczko przy miesiącu, w którym najczęściej występuje pokazana na termometrze temperatura.



- X
 I
 IV



- III
 XII
 VII



- IV
 X
 VII